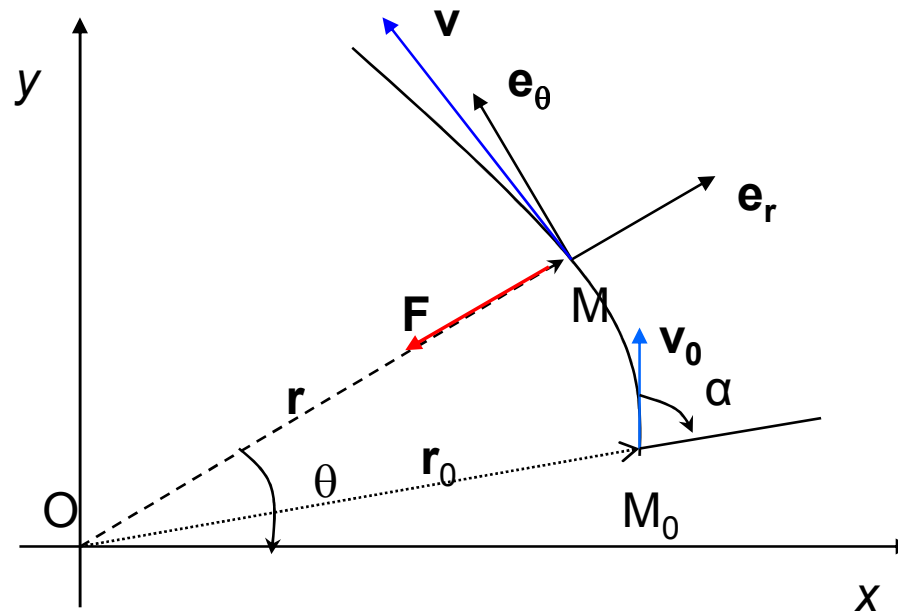


# Forte centrale

Note de curs (in format PDF):

[www.math.ubbcluj.ro/~tgrosan/Infostud.htm/Mecanica.htm](http://www.math.ubbcluj.ro/~tgrosan/Infostud.htm/Mecanica.htm)

Numim forta centrala o forta  $F$  a carei directie trece in orice moment printr-un punct fix  $O$ , numit centrul fortei.



## Forte centrale

Fie  $O$  centrul forței  $\vec{F}$  ce acționează asupra unui punct material  $M(m)$  de vector de poziție  $\vec{r} = \overrightarrow{OM}$  față de  $O$ . Fie  $(r, \theta)$  coordonatele polare ale punctului  $M$ . Atunci avem

$$\vec{v} = (\dot{r}, r\dot{\theta}) \text{ (în raport cu } (\vec{e}_r, \vec{e}_\theta))$$

Fie  $\vec{\rho} = \frac{\vec{r}}{r} = \frac{\vec{r}}{|\vec{r}|}$  versorul vectorului de poziție  $\vec{r}$ . Deci avem

$$\vec{F} = F\vec{\rho} = F\frac{\vec{r}}{r},$$

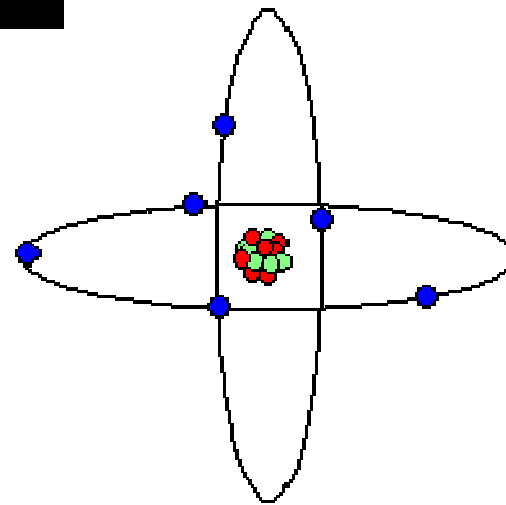
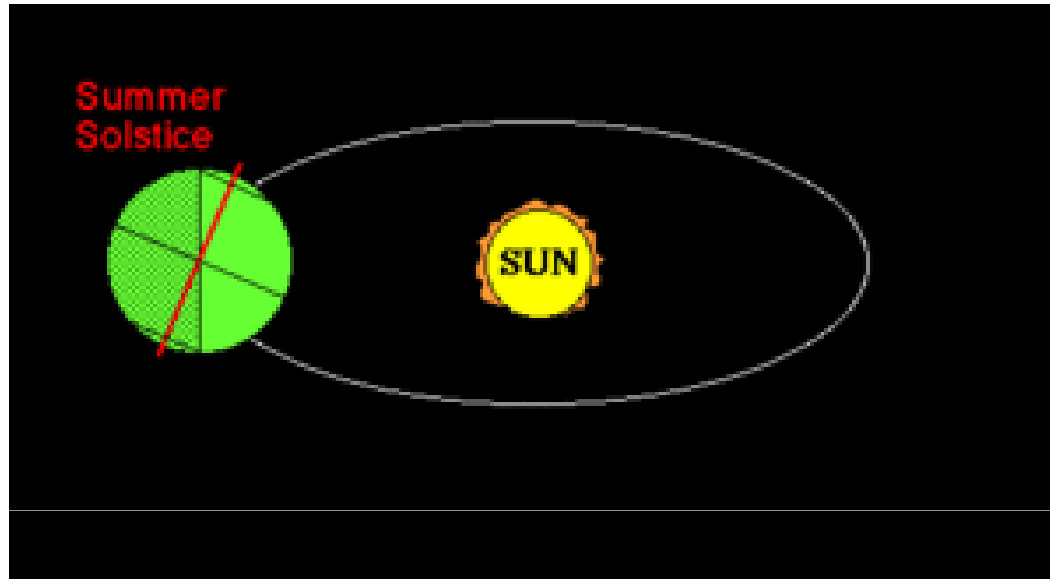
unde  $F$  este mărimea algebrică a forței  $\vec{F}$ .

- Dacă  $F > 0 \Rightarrow \vec{F}$  *repulsivă*.
- Dacă  $F < 0 \Rightarrow \vec{F}$  *atractivă*.

**Exemple: Forta gravitacionala, forta lui Coulomb**

$$F = G \frac{m_1 m_2}{r^2} \qquad F = k_e \frac{q_1 q_2}{r^2}$$

# Forte centrale



## Forte centrale

- Dacă  $F < 0 \Rightarrow \vec{F}$  atractivă.

Din teorema momentului cinetic  $\left( \frac{d\vec{K}_0}{dt} = \vec{M}_0(\vec{F}) = \vec{r} \times \vec{F} = 0 \right)$  rezultă  $\frac{d}{dt}(\vec{r} \times m\vec{v}) = 0$ . Prin urmare, obținem *integrala primă a ariilor*

$$\left| \begin{array}{l} \vec{r} \times \vec{v} = \vec{c} = \vec{r}_0 \times \vec{v}_0 \\ \vec{r}(t_0) = \vec{r}_0, \vec{v}(t_0) = \vec{v}_0. \end{array} \right. \quad (2)$$

Viteza areolară a punctului  $M$  este:

$$\frac{d\vec{A}}{dt} = \frac{1}{2}(\vec{r} \times \vec{v}) = \frac{\vec{c}}{2}, \quad \forall t \geq t_0, \quad (3)$$

deci viteza areolară este constantă.

Prin urmare, *mișcarea punctului  $M(m)$  sub acțiunea forței centrale  $\vec{F}$  are loc astfel încât momentul cinetic și viteza areolară sunt constante vectoriale,  $\forall t \geq t_0$ .*

## Forte centrale

- Să presupunem că

$$\vec{c} = (c_1, c_2, c_3) \neq 0.$$

Din  $\vec{r} \times \vec{v} = \vec{c} = \vec{r}_0 \times \vec{v}_0$  rezultă  $\vec{r} \cdot (\vec{r}_0 \times \vec{v}_0) = 0$  sau  $\vec{r} \cdot \vec{c} = 0$ . Așadar,

$$xc_1 + yc_2 + zc_3 = 0 \quad (4)$$

și deci *mișcarea punctului  $M$  este plană și are loc în planul determinat de vectorii  $\vec{r}_0$  și  $\vec{v}_0$  (normala la acest plan fiind  $\vec{c} = \vec{r}_0 \times \vec{v}_0$ ).*

Fie  $Oxy$  planul mișcării punctului  $M(m)$ . Fie  $(r, \theta)$  - coordonatele polare ale lui  $M$ .  
Avem

$$\vec{r} \times \vec{v} = \begin{vmatrix} \vec{i} & \vec{j} & \vec{k} \\ x & y & 0 \\ \dot{x} & \dot{y} & 0 \end{vmatrix} = (x\dot{y} - y\dot{x})\vec{k} = r^2\dot{\theta}\vec{k}.$$

## Forte centrale

Deoarece  $\vec{c} = \vec{r}_0 \times \vec{v}_0 = r_0^2 \dot{\theta}_0 \vec{k}$  (deci  $\vec{c} \perp$  planul mișcării), obținem ( $\vec{r}_0 \times \vec{v}_0 = \vec{c} = \vec{r} \times \vec{v}$ )

$$r^2 \dot{\theta} = c, \quad \forall t \geq t_0. \quad (5)$$

(5) este *integrala ariilor* (deoarece  $\frac{1}{2} \int r^2(\theta) d\theta$  - aria descrisă de  $M$  în planul  $xOy$ ).

Constanta ariilor  $c$  din (5) se determină din condițiile inițiale:

$$c = |\vec{r}_0 \times \vec{v}_0| = r_0 v_0 \sin \alpha$$

și deci

$$c = r_0^2 \dot{\theta}_0 = r_0 v_0 \sin \alpha, \quad \alpha = (\vec{r}_0, \vec{v}_0) \quad (6)$$

- Dacă  $\vec{c} = 0 \Rightarrow$  mișcarea punctului  $M$  este *rectilinie*.

În continuare admitem că  $\vec{c} = \vec{r}_0 \times \vec{v}_0 \neq 0$  (constanta ariilor este diferită de zero).

## Forte centrale

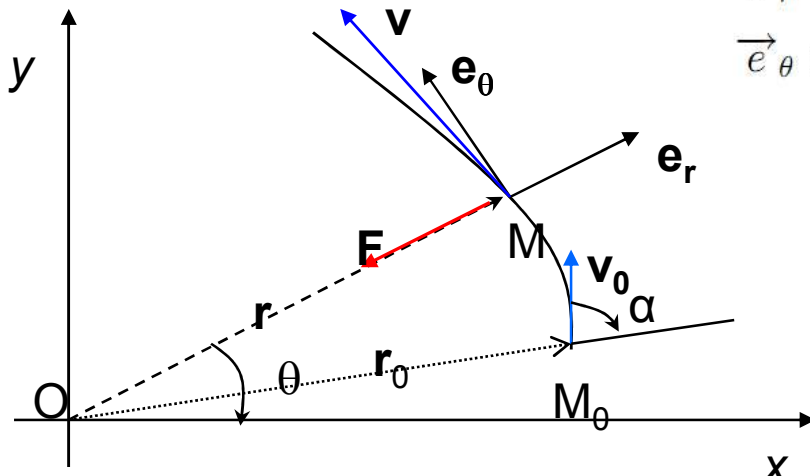
### Determinarea mișcării în planul ei

Fie  $Oxy$  planul mișcării punctului  $M$  și  $(r, \theta)$  coordonatele polare ale punctului  $M$ .  
Ecuatia diferențială a mișcării punctului  $M$  este:

$$m \frac{d^2 \vec{r}}{dt^2} = F \frac{\vec{r}}{r}, \quad \vec{r}(t_0) = \vec{r}_0, \quad \vec{v}(t_0) = \vec{v}_0 \quad (7)$$

Proiectând (7) pe direcțiile (radială și transversală)  $\vec{e}_r$  și  $\vec{e}_\theta$  și ținând cont că față de reperul  $(\vec{e}_r, \vec{e}_\theta)$  accelerația are componentele  $\vec{a} = \left( \ddot{r} - r\dot{\theta}^2, \frac{1}{r} \frac{d}{dt}(r^2\dot{\theta}) \right)$ ,  
obținem

$$\begin{cases} \vec{e}_r : m(\ddot{r} - r\dot{\theta}^2) = F \\ \vec{e}_\theta : \frac{m}{r} \frac{d}{dt}(r^2\dot{\theta}) = 0 \end{cases} \quad (8)$$



## Forte centrale

Din (8)<sub>2</sub> rezultă *integrala ariilor*:

$$r^2 \dot{\theta} = c, \quad (9)$$

unde

$$c = r_0^2 \dot{\theta}_0 = r_0 v_0 \sin \alpha, \quad \alpha = \widehat{(\vec{r}_0, \vec{v}_0)} \quad (10)$$

Din (9) rezultă

$$r^2(\theta) d\theta = c dt \Rightarrow \int_{\theta_0}^{\theta_1} r^2(\theta) d\theta = c(t_1 - t_0),$$

și deci descrie arii egale în intervale de timp egale. Aceasta este *legea ariilor*.

Prin urmare, *mișcarea punctului material sub acțiunea unei forțe centrale este plană și respectă legea ariilor*.



## Forte centrale

(i) Să presupunem mai întâi că forța centrală nu depinde explicit de timp, deci

$$\vec{F} = \vec{F}(\vec{r}, \vec{v}).$$

Eliminăm timpul  $t$  din (8)<sub>1</sub> utilizând integrala ariilor (9). Avem:

$$\dot{r} = \frac{dr}{dt} = \frac{dr}{d\theta} \dot{\theta} = \frac{c}{r^2} \frac{dr}{d\theta} = -c \frac{d}{d\theta} \left( \frac{1}{r} \right)$$

$$\ddot{r} = \frac{d}{dt} \left( -c \frac{d}{d\theta} \left( \frac{1}{r} \right) \right) = \frac{d}{d\theta} \left( -c \frac{d}{d\theta} \left( \frac{1}{r} \right) \right) \underbrace{\dot{\theta}}_{=\frac{c}{r^2}} = -\frac{c^2}{r^2} \frac{d^2}{d\theta^2} \left( \frac{1}{r} \right)$$

Prin urmare, ecuația (8)<sub>1</sub> devine:

$$-\frac{mc^2}{r^2} \left[ \frac{d^2}{d\theta^2} \left( \frac{1}{r} \right) + \frac{1}{r} \right] = F \left( r, \theta, -c \frac{d}{d\theta} \left( \frac{1}{r} \right), \frac{c}{r^2} \right) \quad (11)$$

## Forte centrale


Dacă forța depinde numai de poziția  $(r, \theta)$ , ecuația (11) are forma

$$-\frac{mc^2}{r^2} \left[ \frac{d^2}{d\theta^2} \left( \frac{1}{r} \right) + \frac{1}{r} \right] = F(r, \theta) \quad (12)$$

- Ecuația (11) (sau (12)) se numește *ecuația lui Binét* și reprezintă ecuația diferențială a traiectoriei punctului sub acțiunea unei forțe centrale ce depinde explicit numai de poziție și viteză.

- Condițiile Cauchy (inițiale) adăugate ecuației lui Binét (11) (sau (12)) (rezultă din condițiile inițiale  $\vec{r}(t_0) = \vec{r}_0$ ,  $\vec{v}(t_0) = \vec{v}_0$ ) au forma

$$r(\theta_0) = r_0, \quad \left. \frac{d}{d\theta} \left( \frac{1}{r} \right) \right|_{\substack{\theta=\theta_0 \\ (t=t_0)}} = -\frac{1}{r_0} \text{ctg } \alpha. \quad (13)$$



**Jacques Philippe Marie Binet**  
(February 2, 1786 – May 12, 1856)

## Forte centrale

Într-adevăr, avem

$$\begin{aligned} \frac{d}{d\theta} \left( \frac{1}{r} \right) \Big|_{\substack{\theta=\theta_0 \\ (t=t_0)}} &= -\frac{1}{r_0^2} \frac{dr}{d\theta} \Big|_{t=t_0} = -\frac{1}{r_0^2} \dot{r} \Big|_{t=t_0} = -\frac{1}{r_0^2} \dot{r}_0 \\ &= -\frac{1}{r_0^2} \frac{pr_{\vec{r}_0} \vec{v}_0}{\frac{c}{r_0^2}} = -\frac{1}{c} v_0 \cos \alpha = -\frac{1}{r_0 v_0 \sin \alpha} v_0 \cos \alpha = -\frac{1}{r_0} \operatorname{ctg} \alpha, \end{aligned}$$

și deci obținem

$$\frac{d}{d\theta} \left( \frac{1}{r} \right) \Big|_{\substack{\theta=\theta_0 \\ (t=t_0)}} = -\frac{1}{r_0} \operatorname{ctg} \alpha$$

Din ecuația Binét (11) (sau (12)) și condițiile inițiale (13) rezultă *ecuația traiectoriei în coordonate polare*

$$r = r(\theta). \tag{14}$$

## Forte centrale

Din legea ariilor  $r^2\dot{\theta} = c \Rightarrow r^2(\theta)d\theta = cdt$ , adică

$$c(t - t_0) = \int_{\theta_0}^{\theta} r^2(\theta)d\theta \quad (15)$$

și deci

$$\theta = \theta(t). \quad (16)$$

Din (14) și (16) obținem  $r = r(t)$ , deci avem

$$r = r(t), \quad \theta = \theta(t), \quad t \in [t_0, T],$$

$t_0 \geq 0, T < \infty$ . Prin urmare mișcarea este complet determinată.

**Observația 2** Formula (11) (sau (12)) poate fi utilizată și la determinarea forței centrale  $F$  dacă se cunoaște traiectoria punctului  $M$ ,  $r = r(\theta)$ .

## Forte centrale

Asadar, problema miscarii sub actiunea unei forte centrale se poate reduce la ecuatia lui Binet:

$$-\frac{mc^2}{r^2} \left[ \frac{d^2}{d\theta^2} \left( \frac{1}{r} \right) + \frac{1}{r} \right] = \pm F(r, \theta) \quad (17)$$

semn „+“ pentru forta repulsiva  
semn „-“ pentru forta atractiva

cu conditiile initiale:

$$\frac{1}{r} \Big|_{\substack{t=0 \\ (\theta=\theta_0)}} = \frac{1}{r_0}; \quad \frac{d}{d\theta} \left( \frac{1}{r} \right) \Big|_{\substack{t=0 \\ (\theta=\theta_0)}} = -\frac{1}{r_0} \operatorname{ctg} \alpha \quad (18)$$

unde  $c$  este constanta ariilor:

$$c = r_0^2 \dot{\theta}_0 = r_0 v_0 \sin \alpha \quad (19)$$

## Forte centrale - continuare

Daca forta  $F$  depinde doar de raza vectorie  $r$  ( $F = F(r)$ ) atunci ca o alternativa la ecuatiile lui Binet se poate aplica teorema energiei:

$$dT = \delta L$$

unde

$$dT = d\left(\frac{mv^2}{2}\right)$$

$$\delta L = \vec{F} \cdot d\vec{r} = F \frac{\vec{r}}{r} \cdot d\vec{r} = \frac{F}{r} \vec{r} \cdot d\vec{r} = \frac{F}{r} d\left(\frac{\vec{r}^2}{2}\right) = F dr$$

Utilizand teorema energiei se obtine:

$$d\left(\frac{mv^2}{2}\right) = F dr \quad \Rightarrow \quad \frac{mv^2}{2} - \frac{mv_0^2}{2} = \int_{r_0}^r F(r) dr$$

Deci

$$v^2 = \frac{2}{m} \int F(r) dr + h \quad \leftarrow \text{constanta energiei} \quad (20)$$

## Forte centrale - continuare

Tinem cont ca:

$$\left. \begin{aligned} v^2 &= \dot{r}^2 + r^2 \dot{\theta}^2 \\ \dot{r} &= -c \frac{d}{d\theta} \left( \frac{1}{r} \right) \\ \dot{\theta} &= \frac{c}{r^2} \end{aligned} \right\} \Rightarrow v^2 = c^2 \left\{ \left[ \frac{d}{d\theta} \left( \frac{1}{r} \right) \right]^2 + \frac{1}{r^2} \right\}$$

Deci:

$$c^2 \left\{ \left[ \frac{d}{d\theta} \left( \frac{1}{r} \right) \right]^2 + \frac{1}{r^2} \right\} = \frac{2}{m} \int F(r) dr + h \quad (21)$$

unde h se determina din conditiile initiale:

$$v_0^2 = \frac{2}{m} \int F(r) dr + h$$

## Forte centrale

• Deci, dacă  $F = F(r)$ , determinarea mișcării se reduce la *integrala energiei* (21) și *integrala ariilor*  $r^2\dot{\theta} = c \Rightarrow r = r(t), \theta = \theta(t)$ .

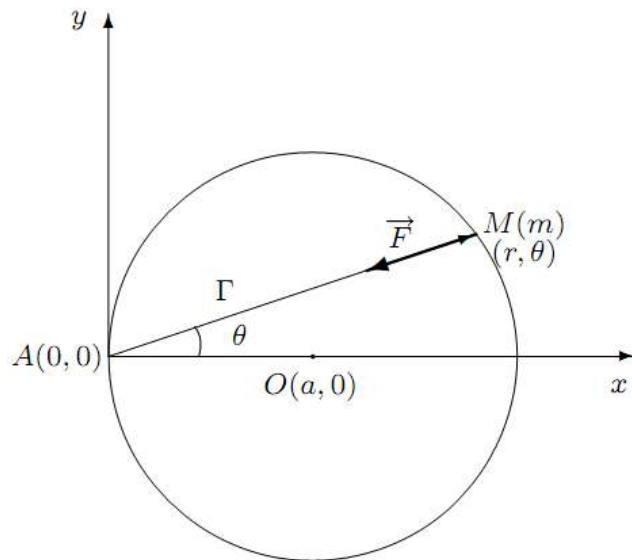
### Probleme

**Problema 1.** Un punct material  $M(m)$  descrie un cerc de rază  $a$ , fiind atras de un punct fix  $A$  al acestui cerc. Să se determine forța de atracție și viteza punctului material în funcție de distanța  $r$  dintre  $M$  și  $A$ .

**Soluție.**

Ecuția cercului față de reperul  $Axy$  este:

$$(x - a)^2 + y^2 = a^2.$$





## Forte centrale

Fie  $r$  și  $\theta$  coordonatele polare ale punctului  $M(m)$

$$\begin{cases} x = r \cos \theta \\ y = r \sin \theta \end{cases} \Rightarrow (r \cos \theta - a)^2 + r^2 \sin^2 \theta = a^2$$

$$\Rightarrow r^2 + a^2 - 2ra \cos \theta = a^2 \Rightarrow \left. \begin{array}{l} r(r - 2a \cos \theta) = 0 \\ r \neq 0 \text{ (punctul descrie cercul)} \end{array} \right\} \Rightarrow r = 2a \cos \theta.$$

Așadar, ecuația cercului în coordonate polare are forma:

$$r = 2a \cos \theta.$$

De aici obținem

$$r = 2a \cos \theta \Rightarrow \frac{d}{d\theta} \left( \frac{1}{r} \right) = \frac{d}{d\theta} \left( \frac{1}{2a \cos \theta} \right) = \frac{1}{2a} \frac{\sin \theta}{\cos^2 \theta}$$
$$\frac{d^2}{d\theta^2} \left( \frac{1}{r} \right) = \frac{d}{d\theta} \left( \frac{1}{2a} \frac{\sin \theta}{\cos^2 \theta} \right) = \frac{1}{2a} \left[ \frac{\cos \theta}{\cos^2 \theta} + \frac{2 \sin^2 \theta}{\cos^3 \theta} \right] = \frac{1}{2a} \left( \frac{\cos^2 \theta + 2 \sin^2 \theta}{\cos^3 \theta} \right).$$

## Forte centrale

Înlocuind în ecuația lui Binet, obținem

$$\begin{aligned} F &= \frac{mc^2}{r^2} \left[ \frac{d^2}{d\theta^2} \left( \frac{1}{r} \right) + \frac{1}{r} \right] = \frac{mc^2}{r^2} \left[ \frac{1}{2a} \frac{\cos^2 \theta + 2 \sin^2 \theta}{\cos^3 \theta} + \frac{1}{r} \right] \\ &= \frac{mc^2}{r^2} \left[ \frac{1}{2a} \left( \frac{1}{\cos \theta} + \frac{2 - 2 \cos^2 \theta}{\cos^3 \theta} \right) + \frac{1}{r} \right] = \frac{mc^2}{r^2} \left[ \frac{1}{2a} \left( \frac{2}{\cos^3 \theta} - \frac{1}{\cos \theta} \right) + \frac{1}{r} \right] \\ &= \frac{mc^2}{r^2} \left[ \frac{1}{2a} \left( \frac{2}{\frac{r^3}{8a^3}} - \frac{1}{\frac{r}{2a}} \right) + \frac{1}{r} \right] = \frac{mc^2}{r^2} \left[ \frac{8a^2}{r^3} - \frac{1}{r} + \frac{1}{r} \right] = \frac{8mc^2 a^2}{r^5} \\ &\Rightarrow F = \frac{8mc^2 a^2}{r^5} \end{aligned}$$

## Forte centrale

În plus, avem

$$\begin{aligned}v^2 = \dot{r}^2 + r^2\dot{\theta}^2 &= c^2 \left[ \left( \frac{d}{d\theta} \left( \frac{1}{r} \right) \right)^2 + \frac{1}{r^2} \right] = c^2 \left[ \frac{1}{4a^2} \frac{1 - \cos^2 \theta}{\cos^4 \theta} + \frac{1}{r^2} \right] \\&= c^2 \left[ \frac{1}{4a^2} \left( \frac{1}{r^4/(16a^4)} - \frac{1}{r^2/(4a^2)} \right) + \frac{1}{r^2} \right] = \frac{4a^2 c^2}{r^4} \\&\Rightarrow v = \frac{2ac}{r^2}\end{aligned}$$

## Forte centrale

**Problema 2.** Să se determine mișcarea unui punct material  $M$  de masă  $m = 1$  aflat sub acțiunea unei forțe centrale atractive invers proporțională cu cubul distanței de la punct la centrul forței. În momentul inițial  $t = 0$  avem:

$$\theta_0 = 0, \quad r_0 = 2, \quad v_0 = 1/2, \quad \alpha = (\widehat{\vec{r}_0, \vec{v}_0}) = \frac{\pi}{4}.$$

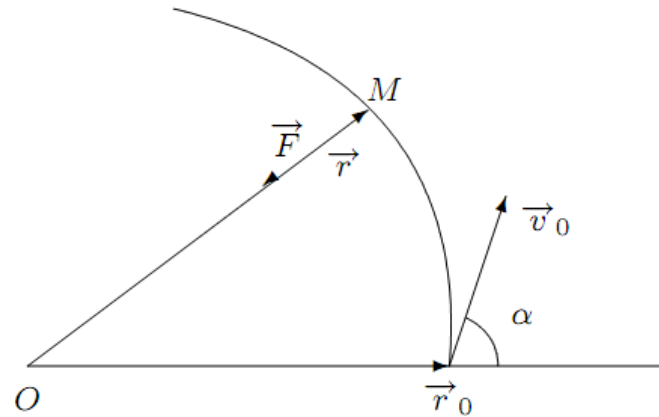
Coeficientul de proporționalitate este  $k = 1$ .

**Soluție.**

$$\left. \begin{array}{l} -\frac{mc^2}{r^2} \left( \frac{d^2}{d\theta^2} \left( \frac{1}{r} \right) + \frac{1}{r} \right) = -\frac{1}{r^3} \\ c = r_0 v_0 \sin \alpha = 2 \frac{1}{2} \frac{\sqrt{2}}{2} = \frac{\sqrt{2}}{2} \\ m = 1 \end{array} \right\} \Rightarrow \frac{1}{2} \left( \frac{d^2}{d\theta^2} \left( \frac{1}{r} \right) + \frac{1}{r} \right) = \frac{1}{r}$$

$$\Rightarrow \frac{d^2}{d\theta^2} \left( \frac{1}{r} \right) - \frac{1}{r} = 0 \Rightarrow \frac{1}{r} = C_1 e^\theta + C_2 e^{-\theta}$$

# Forte centrale



$$\left. \begin{array}{l} r(0) = 2 \\ \theta(0) = 0 \end{array} \right\} \Rightarrow \frac{1}{2} = C_1 + C_2$$

$$\left. \begin{array}{l} \frac{d}{d\theta} \left( \frac{1}{r} \right) \Big|_{t=0} = -\frac{1}{r_0} \operatorname{ctg} \alpha = -\frac{1}{2} \\ \frac{d}{d\theta} \left( \frac{1}{r} \right) \Big|_{t=0} = C_1 - C_2 \\ \theta(0) = 0 \end{array} \right\} \Rightarrow \begin{cases} C_1 - C_2 = -\frac{1}{2} \\ C_1 + C_2 = \frac{1}{2} \end{cases} \Rightarrow 2C_1 = 0 \Rightarrow C_1 = 0$$

## Forte centrale

$$C_1 = 0 \Rightarrow C_2 = \frac{1}{2} \Rightarrow \frac{1}{r} = \frac{1}{2}e^{-\theta} \Rightarrow r = 2e^{\theta} \text{ ecuația traiectoriei}$$

$$\text{Din legea ariilor } r^2\dot{\theta} = c = \frac{\sqrt{2}}{2} \Rightarrow 4e^{2\theta}\dot{\theta} = \frac{\sqrt{2}}{2} \Rightarrow 4e^{2\theta}d\theta = \frac{\sqrt{2}}{2}dt$$

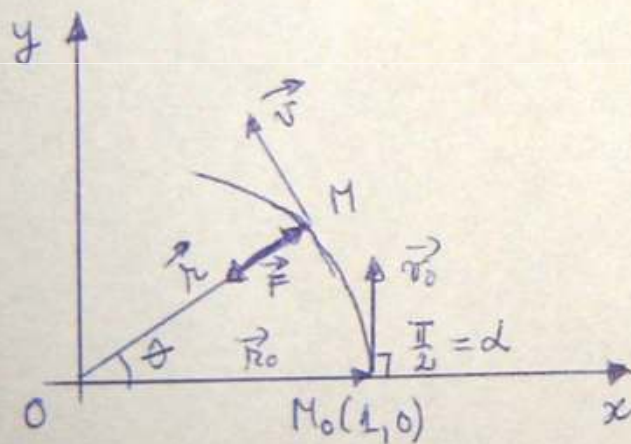
$$\Rightarrow 2d(e^{2\theta}) = \frac{\sqrt{2}}{2}dt \Rightarrow 2e^{2\theta}\Big|_0^{\theta} = \frac{\sqrt{2}}{2}t \Rightarrow e^{2\theta} - 1 = \frac{\sqrt{2}}{4}t$$

$$\Rightarrow \frac{r^2}{4} - 1 = \frac{\sqrt{2}}{2}t \Rightarrow r^2 = \sqrt{2}t + 4 \Rightarrow 4e^{2\theta} = \sqrt{2}t + 4 \Rightarrow e^{2\theta} = \frac{1}{4}(\sqrt{2}t + 4)$$

$$\Rightarrow 2\theta = \ln\left(1 + \frac{\sqrt{2}}{4}t\right) \Rightarrow \begin{cases} \theta = \frac{1}{2} \ln\left(\frac{\sqrt{2}}{4}t + 1\right) \\ r = (\sqrt{2}t + 4)^{1/2} \end{cases}$$

## Forte centrale

3. Un punct material  $M$  de masă  $m=1$  este atras de forța centrală de mărime  $F = \frac{2}{r^2}$ . La momentul inițial punctul  $M$  se afla în  $M_0(1,0)$  și avea viteza  $v_0 = \sqrt{3}$  perpendiculară pe  $\vec{r}_0$ . Se cere traiectoria punctului  $M$ .



$F = F(r) \Rightarrow$  putem aplica teorema energiei

$$v^2 = \frac{2}{m} \int -F dr + h$$

$$v^2 = -\frac{2}{m} \cdot \int \frac{2}{r^2} dr + h$$

$$v^2 = \frac{4}{r} + h$$

## Forte centrale

$$\text{La } t=0 \text{ avem } v_0^2 = \frac{4}{r_0} + h \Rightarrow \boxed{h = -1}$$
$$v^2 = c^2 \left\{ \left[ \frac{d}{d\theta} \left( \frac{1}{r} \right) \right]^2 + \frac{1}{r^2} \right\} \Rightarrow$$
$$c = v_0 \cdot r_0 \cdot \sin \alpha = \sqrt{3}$$

$$\Rightarrow 3 \left\{ \left[ \frac{d}{d\theta} \left( \frac{1}{r} \right) \right]^2 + \frac{1}{r^2} \right\} = \frac{4}{r} - 1$$

Facem substituția:  $\frac{1}{r} = u \Rightarrow 3 \left[ \left( \frac{du}{d\theta} \right)^2 + u^2 \right] = 4u - 1$

$$3 \left( \frac{du}{d\theta} \right)^2 = -3u^2 + 4u - 1 \Rightarrow \sqrt{3} \frac{du}{d\theta} = \pm \sqrt{-3u^2 + 4u - 1}$$

Obs: se alege semnul "+" deoarece:  $r$  scade  
(și atunci  $du = d\left(\frac{1}{r}\right)$  crește) și  $d\theta$  crește.



## Forte centrale

Avem:

$$\frac{\sqrt{3} du}{\sqrt{-3u^2+4u-1}} = d\theta \Rightarrow \theta + c = \int \frac{\sqrt{3} du}{\sqrt{-3u^2+4u-1}} \Rightarrow$$

$$\Rightarrow \theta + c = \int \frac{du}{\sqrt{-u^2 + \frac{4}{3}u - \frac{4}{9} + \frac{4}{9} - \frac{1}{3}}} = \int \frac{du}{\sqrt{\frac{1}{9} - (u - \frac{2}{3})^2}} = \int \frac{3du}{1 - (3u - 2)^2} =$$

$$= \arcsin(3u - 2)$$

Obs: Am folosit  $\int \frac{dx}{\sqrt{1 - (\frac{x}{a})^2}} = a \cdot \arcsin \frac{x}{a}$

Deci:  $\theta + c = \arcsin\left(\frac{3}{r} - 2\right)$   
 La  $t=0$ :  $\theta = 0$   
 $r = 1$

$$\Rightarrow c = \arcsin(1) = \frac{\pi}{2}$$

Atunci:  $\theta + \frac{\pi}{2} = \arcsin\left(\frac{3}{r} - 2\right) \Rightarrow \frac{3}{r} - 2 = \sin\left(\theta + \frac{\pi}{2}\right) \Rightarrow$

$$\Rightarrow \boxed{r = \frac{3}{2 + \cos \theta}}$$